


संख्याएँ

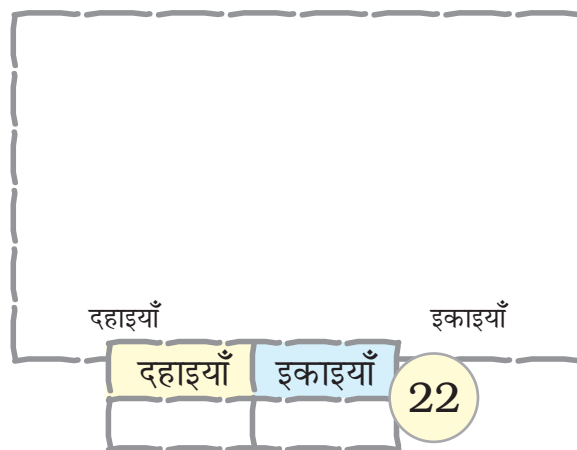
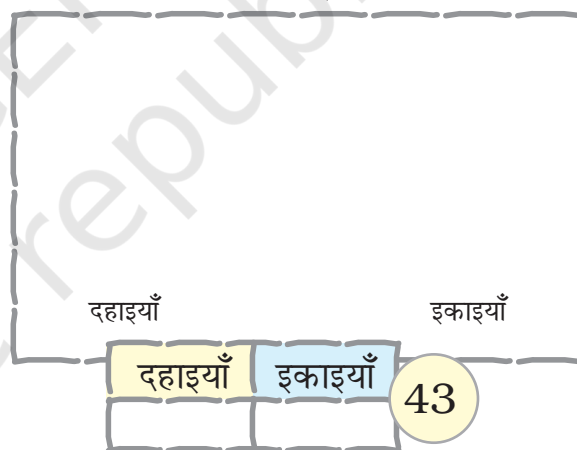
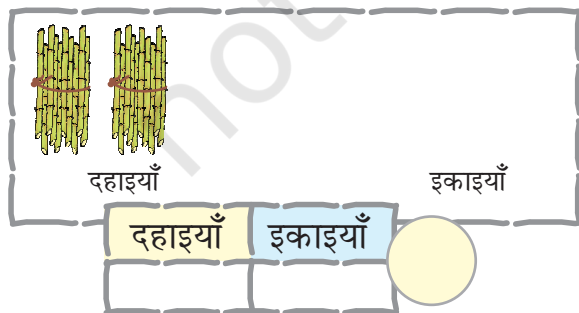
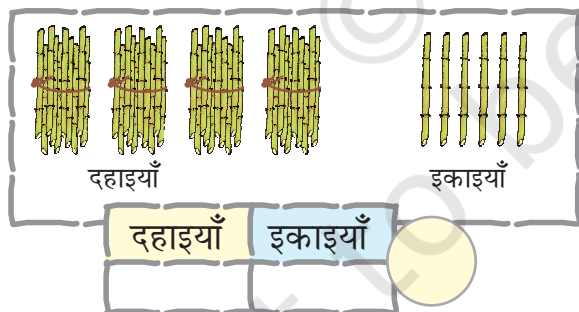
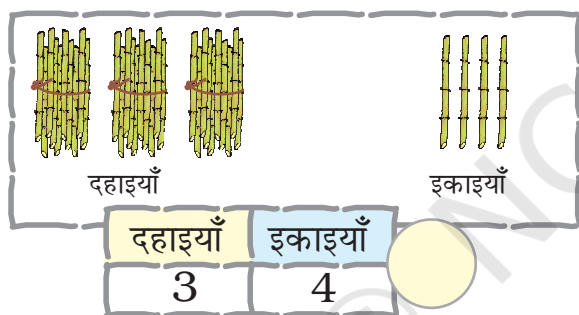


0120CH11



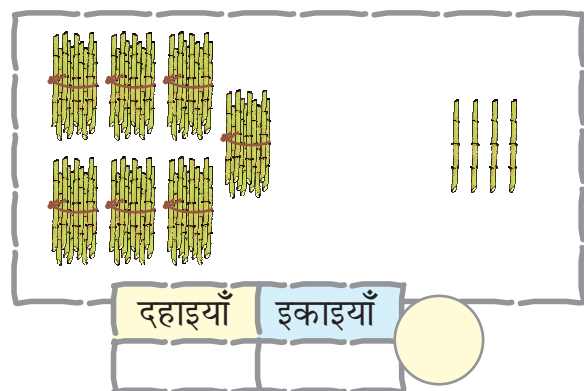
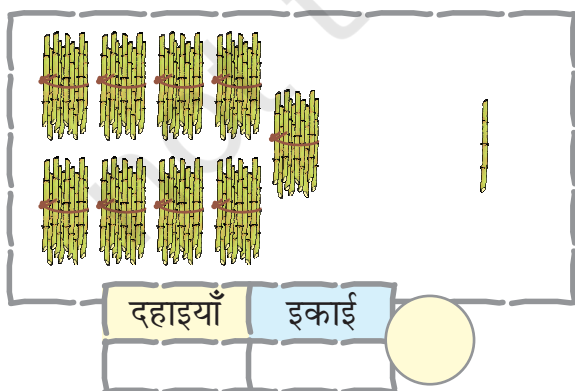
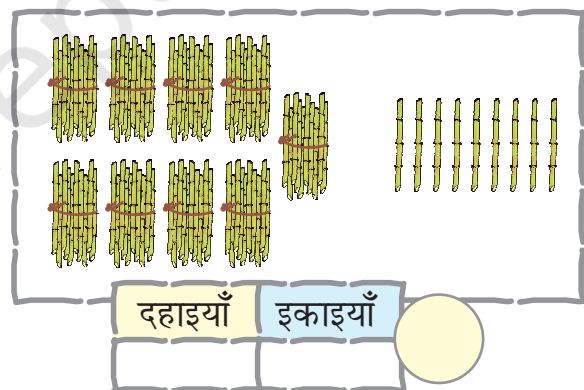
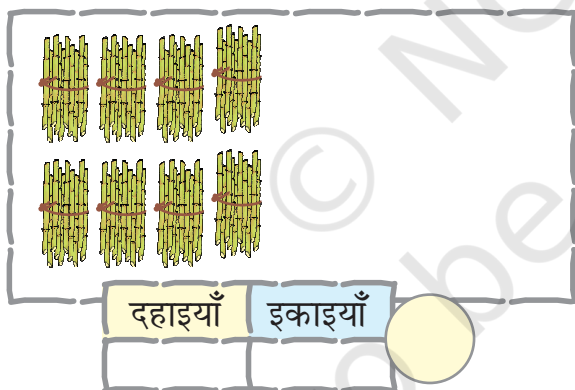
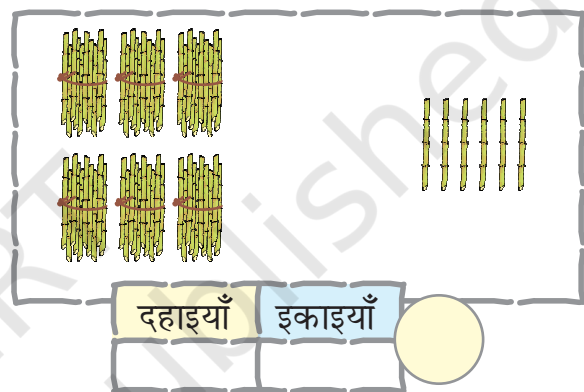
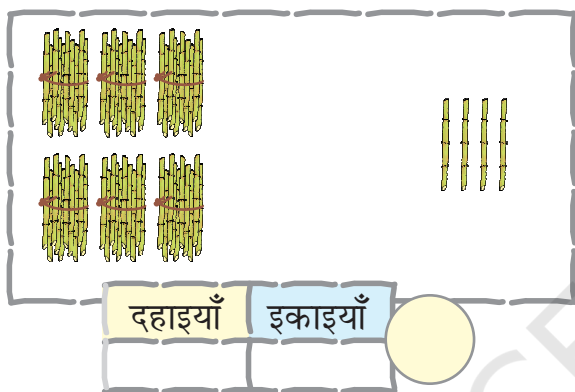
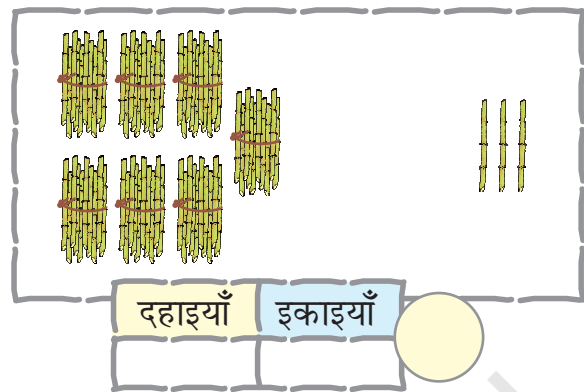
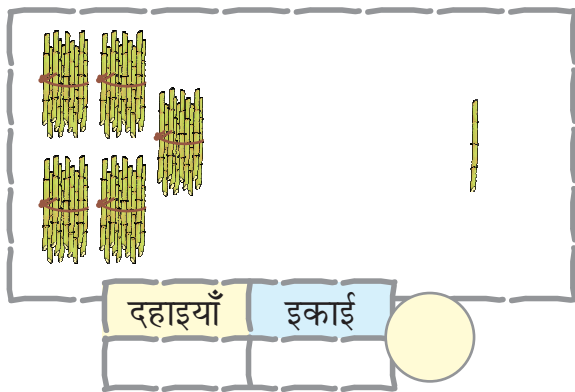
संख्या लिखिए

संख्याओं के दहाइयों के बंडल और इकाइयाँ बनाइए





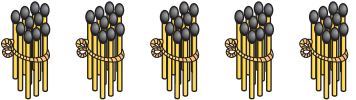

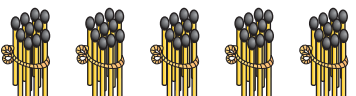

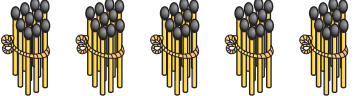
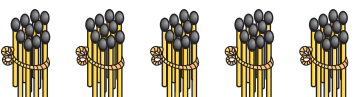


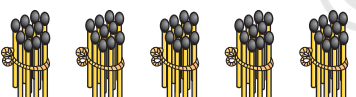

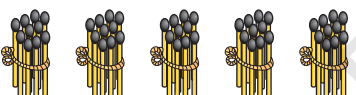

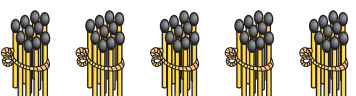

खाली स्थान में संख्या लिखिए।

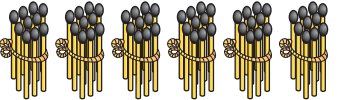

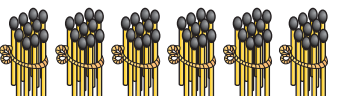

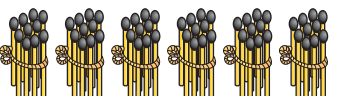



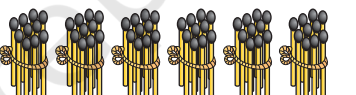

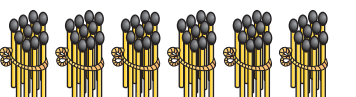

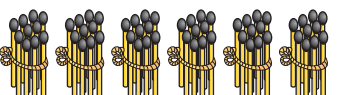
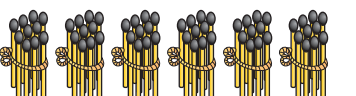

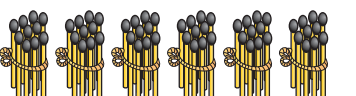





51 से 70 तक की संख्याएँ

खाली स्थान भरिए।

		51
5 दहाइयाँ	1 इकाई	
		52
5 दहाइयाँ	2 इकाइयाँ	
		53
5 दहाइयाँ	3 इकाइयाँ	
		54
5 दहाइयाँ	4 इकाइयाँ	
		
5 दहाइयाँ	5 इकाइयाँ	
		
5 दहाइयाँ	6 इकाइयाँ	
		
5 दहाइयाँ	7 इकाइयाँ	
		58
5 दहाइयाँ	8 इकाइयाँ	
		59
5 दहाइयाँ	9 इकाइयाँ	
		60
5 दहाइयाँ	1 दहाई	

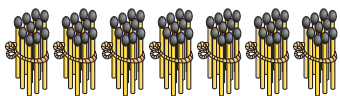

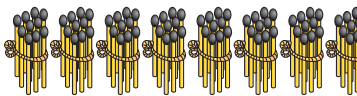

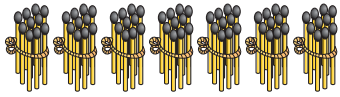

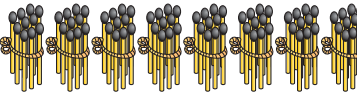

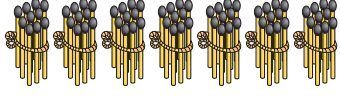

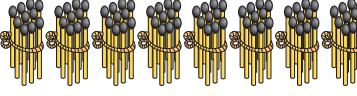

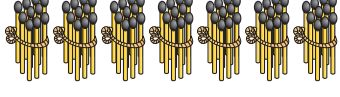

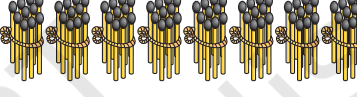







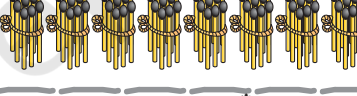



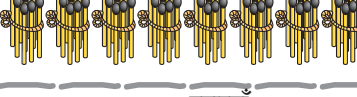



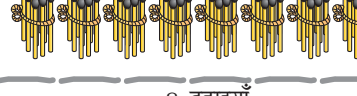









		61
6 दहाइयाँ	1 इकाई	
		
6 दहाइयाँ	2 इकाइयाँ	
		63
6 दहाइयाँ	3 इकाइयाँ	
		
6 दहाइयाँ	4 इकाइयाँ	
		65
6 दहाइयाँ	5 इकाइयाँ	
		
6 दहाइयाँ	6 इकाइयाँ	
		67
6 दहाइयाँ	7 इकाइयाँ	
		68
6 दहाइयाँ	8 इकाइयाँ	
		
6 दहाइयाँ	9 इकाइयाँ	
		70
6 दहाइयाँ	1 दहाई	





71 से 90 तक की संख्याएँ

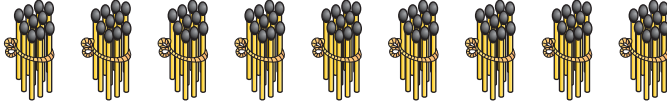

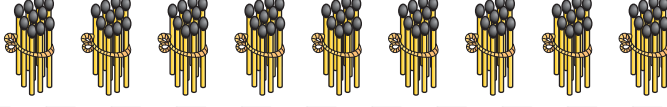
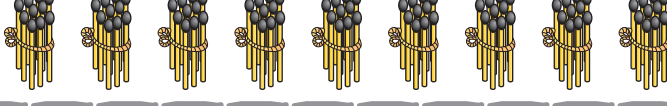

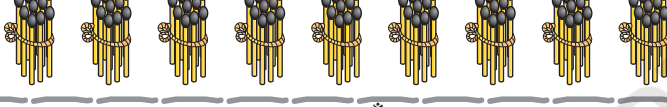
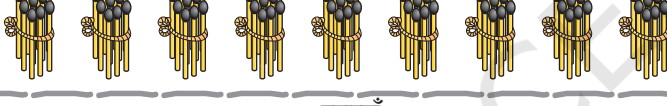










खाली स्थान भरिए।

 7 दहाइयाँ	 1 इकाई	71	 8 दहाइयाँ	 1 इकाई	81
 7 दहाइयाँ	 2 इकाईयाँ		 8 दहाइयाँ	 2 इकाईयाँ	82
 7 दहाइयाँ	 3 इकाईयाँ	73	 8 दहाइयाँ	 3 इकाईयाँ	
 7 दहाइयाँ	 4 इकाईयाँ	74	 8 दहाइयाँ	 4 इकाईयाँ	
 7 दहाइयाँ	 5 इकाईयाँ		 8 दहाइयाँ	 5 इकाईयाँ	85
 7 दहाइयाँ	 6 इकाईयाँ	76	 8 दहाइयाँ	 6 इकाईयाँ	86
 7 दहाइयाँ	 7 इकाईयाँ		 8 दहाइयाँ	 7 इकाईयाँ	
 7 दहाइयाँ	 8 इकाईयाँ		 8 दहाइयाँ	 8 इकाईयाँ	88
 7 दहाइयाँ	 9 इकाईयाँ	79	 8 दहाइयाँ	 9 इकाईयाँ	89
 7 दहाइयाँ	 1 दहाई	80	 8 दहाइयाँ	 1 दहाई	90



91 से 100 तक की संख्याएँ

खाली स्थान भरिए।

		91
9 दहाइयाँ	1 इकाई	
		92
9 दहाइयाँ	2 इकाइयाँ	
		93
9 दहाइयाँ	3 इकाइयाँ	
		94
9 दहाइयाँ	4 इकाइयाँ	
		95
9 दहाइयाँ	5 इकाइयाँ	
		96
9 दहाइयाँ	6 इकाइयाँ	
		
9 दहाइयाँ	7 इकाइयाँ	
		
9 दहाइयाँ	8 इकाइयाँ	
		
9 दहाइयाँ	9 इकाइयाँ	
		100
9 दहाइयाँ	1 दहाई	





छूटी हुई संख्याओं को लिखिए।

51	52	53	54	55	56	57	58	59	60
	62			65				69	
		73							80
			84				88		
		93		95				99	



आओ साँप-सीढ़ी का खेल खेलें।

